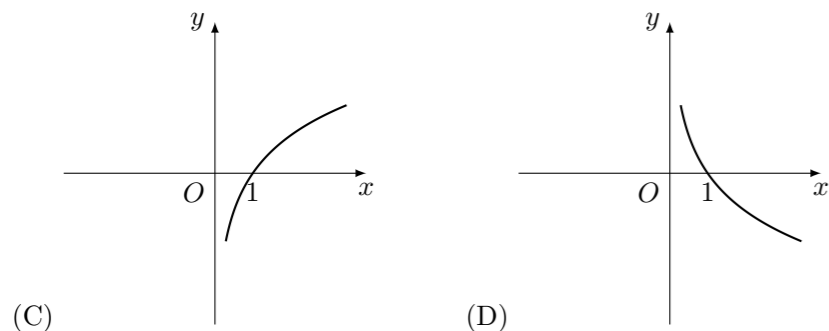
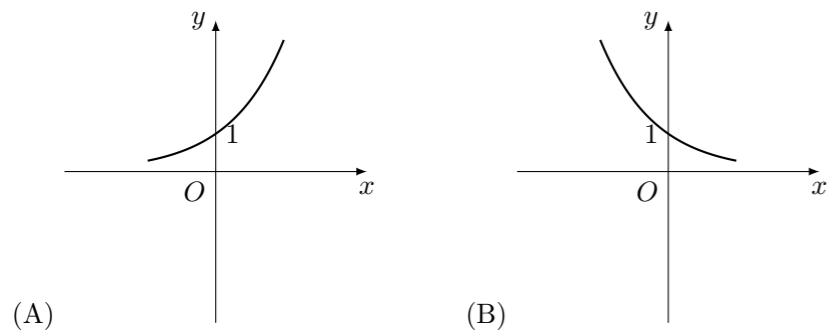


2010 普通高等学校招生考试 (四川卷文)

一、选择题

1. 设集合 $A = \{3, 5, 6, 8\}$, 集合 $B = \{4, 5, 7, 8\}$, 则 $A \cap B$ 等于 ()
 (A) $\{3, 4, 5, 6, 7, 8\}$ (B) $\{3, 6\}$
 (C) $\{4, 7\}$ (D) $\{5, 8\}$

2. 函数 $y = \log_2 x$ 的图象大致是 ()



3. 抛物线 $y^2 = 8x$ 的焦点到准线的距离是 ()
 (A) 1 (B) 2 (C) 4 (D) 8

4. 一个单位有职工 800 人, 其中具有高级职称的 160 人, 具有中级职称的 320 人, 具有初级职称的 200 人, 其余人员 120 人. 为了解职工收入情况, 决定采用分层抽样的方法, 从中抽取容量为 40 的样本. 则从上述各层中依次抽取的人数分别是 ()
 (A) 12, 24, 15, 9 (B) 9, 12, 12, 7 (C) 8, 15, 12, 5 (D) 8, 16, 10, 6

5. 函数 $f(x) = x^2 + mx + 1$ 的图象关于直线 $x = 1$ 对称的充要条件是 ()
 (A) $m = -2$ (B) $m = 2$ (C) $m = -1$ (D) $m = 1$

6. 设点 M 是线段 BC 的中点, 点 A 在直线 BC 外, $BC^2 = 16$, $|\vec{AB} + \vec{AC}| = |\vec{AB} - \vec{AC}|$, 则 $|\vec{AM}| =$ ()
 (A) 8 (B) 4 (C) 2 (D) 1

7. 将函数 $y = \sin x$ 的图象上所有的点向右平行移动 $\frac{\pi}{10}$ 个单位长度, 再把所得各点的横坐标伸长到原来的 2 倍 (纵坐标不变), 所得图象的函数解析式是 ()

- (A) $y = \sin\left(2x - \frac{\pi}{10}\right)$ (B) $y = \sin\left(2x - \frac{\pi}{5}\right)$
 (C) $y = \sin\left(\frac{1}{2}x - \frac{\pi}{10}\right)$ (D) $y = \sin\left(\frac{1}{2}x - \frac{\pi}{20}\right)$

8. 某加工厂用某原料由甲车间加工出 A 产品, 由乙车间加工出 B 产品. 甲车间加工一箱原料需耗费工时 10 小时可加工出 7 千克 A 产品, 每千克 A 产品获利 40 元. 乙车间加工一箱原料需耗费工时 6 小时可加工出 4 千克 B 产品, 每千克 B 产品获利 50 元. 甲、乙两车间每天共能完成至多 70 箱原料的加工, 每天甲、乙两车间耗费工时总和不得超过 480 小时, 甲、乙两车间每天总获利最大的生产计划为 ()

- (A) 甲车间加工原料 10 箱, 乙车间加工原料 60 箱
 (B) 甲车间加工原料 15 箱, 乙车间加工原料 55 箱
 (C) 甲车间加工原料 18 箱, 乙车间加工原料 50 箱
 (D) 甲车间加工原料 40 箱, 乙车间加工原料 30 箱

9. 由 1、2、3、4、5 组成没有重复数字且 1、2 都不与 5 相邻的五位数的个数是 ()

- (A) 36 (B) 32 (C) 28 (D) 24

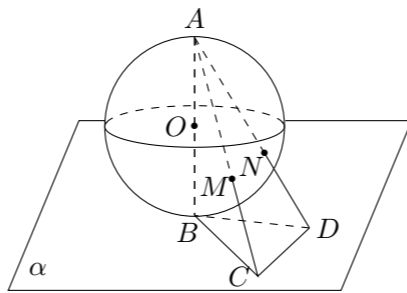
10. 椭圆 $\frac{x^2}{a^2} + \frac{y^2}{b^2} = 1$ ($a > b > 0$) 的右焦点为 F , 其右准线与 x 轴的交点为 A , 在椭圆上存在点 P 满足线段 AP 的垂直平分线过点 F , 则椭圆离心率的取值范围是 ()

- (A) $\left(0, \frac{\sqrt{2}}{2}\right]$ (B) $\left(0, \frac{1}{2}\right]$ (C) $[\sqrt{2} - 1, 1)$ (D) $\left[\frac{1}{2}, 1\right)$

11. 设 $a > b > 0$, 则 $a^2 + \frac{1}{ab} + \frac{1}{a(a-b)}$ 的最小值是 ()

- (A) 1 (B) 2 (C) 3 (D) 4

12. 半径为 R 的球 O 的直径 AB 垂直于平面 α , 垂足为 B , $\triangle BCD$ 是平面 α 内边长为 R 的正三角形, 线段 AC 、 AD 分别与球面交于点 M 、 N , 那么 M 、 N 两点间的球面距离是 ()



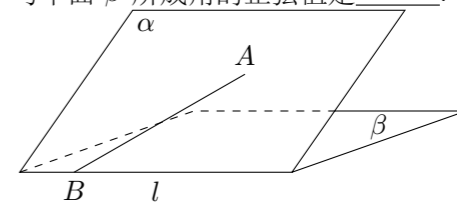
- (A) $R \arccos \frac{17}{25}$ (B) $R \arccos \frac{18}{25}$ (C) $\frac{1}{3}\pi R$ (D) $\frac{4}{15}\pi R$

二、填空题

13. $\left(x - \frac{2}{x}\right)^4$ 的展开式中的常数项为_____. (用数字作答)

14. 直线 $x - 2y + 5 = 0$ 与圆 $x^2 + y^2 = 8$ 相交于 A 、 B 两点, 则 $|AB| =$ _____.

15. 如图, 二面角 $\alpha - l - \beta$ 的大小是 60° , $AB \subset \alpha$, $B \in l$, AB 与 l 所成的角为 30° , 则 AB 与平面 β 所成角的正弦值是_____.



16. 设 S 为实数集 \mathbf{R} 的非空子集, 若对任意 $x, y \in S$, 都有 $x + y, x - y, xy \in S$, 则称 S 为封闭集. 下列命题:

- ① 集合 $S = \{a + b\sqrt{3} \mid a, b \text{ 为整数}\}$ 为封闭集;
 ② 若 S 为封闭集, 则一定有 $0 \in S$;
 ③ 封闭集一定是无限集;
 ④ 若 S 为封闭集, 则满足 $S \subseteq T \subseteq \mathbf{R}$ 的任意集合 T 也是封闭集.
 其中的真命题是_____. (写出所有真命题的序号)

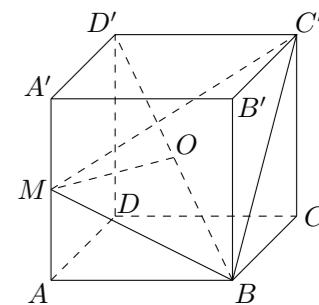
三、解答题

17. 某种有奖销售的饮料, 瓶盖内印有“奖励一瓶”或“谢谢购买”字样, 购买一瓶若其瓶盖内印有“奖励一瓶”字样即为中奖, 中奖概率为 $\frac{1}{6}$. 甲、乙、丙三位同学每人购买了一瓶该饮料.

- (1) 求三位同学都没有中奖的概率;
 (2) 求三位同学中至少有两位没有中奖的概率.

18. 已知正方体 $ABCD - A'B'C'D'$ 的棱长为 1, 点 M 是棱 AA' 的中点, 点 O 是对角线 BD' 的中点.

- (1) 求证: OM 为异面直线 AA' 和 BD' 的公垂线;
 (2) 求二面角 $M - BC' - B'$ 的大小.



19. (1) ① 证明两角和的余弦公式 $C_{(\alpha+\beta)}$: $\cos(\alpha+\beta) = \cos\alpha\cos\beta - \sin\alpha\sin\beta$;

② 由 $C_{(\alpha+\beta)}$ 推导两角和的正弦公式 $S_{(\alpha+\beta)}$: $\sin(\alpha+\beta) = \sin\alpha\cos\beta + \cos\alpha\sin\beta$.

(2) 已知 $\cos\alpha = -\frac{4}{5}$, $\alpha \in \left(\pi, \frac{3\pi}{2}\right)$, $\tan\beta = -\frac{1}{3}$, $\beta \in \left(\frac{\pi}{2}, \pi\right)$, 求 $\cos(\alpha+\beta)$.

21. 已知定点 $A(-1, 0)$, $F(2, 0)$, 定直线 $l: x = \frac{1}{2}$, 不在 x 轴上的动点 P 与点 F 的距离是它到直线 l 的距离的 2 倍. 设点 P 的轨迹为 E , 过点 F 的直线交 E 于 B 、 C 两点, 直线 AB 、 AC 分别交 l 于点 M 、 N .

(1) 求 E 的方程;

(2) 试判断以线段 MN 为直径的圆是否过点 F , 并说明理由.

22. 设 $f(x) = \frac{1+a^x}{1-a^x}$ ($a > 0$ 且 $a \neq 1$), $g(x)$ 是 $f(x)$ 的反函数.

(1) 求 $g(x)$;

(2) 当 $x \in [2, 6]$ 时, 恒有 $g(x) > \log_a \frac{t}{(x^2-1)(7-x)}$ 成立, 求 t 的取值范围;

(3) 当 $0 < a \leq \frac{1}{2}$ 时, 试比较 $f(1) + f(2) + \cdots + f(n)$ 与 $n+4$ 的大小, 并说明理由.

20. 已知等差数列 $\{a_n\}$ 的前 3 项和为 6, 前 8 项和为 -4.

(1) 求数列 $\{a_n\}$ 的通项公式;

(2) 设 $b_n = (4 - a_n)q^{n-1}$ ($q \neq 0, n \in \mathbf{N}^*$), 求数列 $\{b_n\}$ 的前 n 项和 S_n .